

1.

Ekonomik kalkınmanın sağlanabilmesi ve komşu ülkelerle ticari ilişkilerin geliştirilebilmesi amacıyla bugüne kadar çok sayıda bölgesel ticaret anlaşması yapılmıştır.

Bu anlaşmalara 4 tane örnek yazınız. (8 Puan)

1.

2.

3.

4.

2.

Türkiye’de iç ticarete konu olan tarım ve hayvancılık ürünleri hangileridir? Yazınız. (8 Puan)

1.

2.

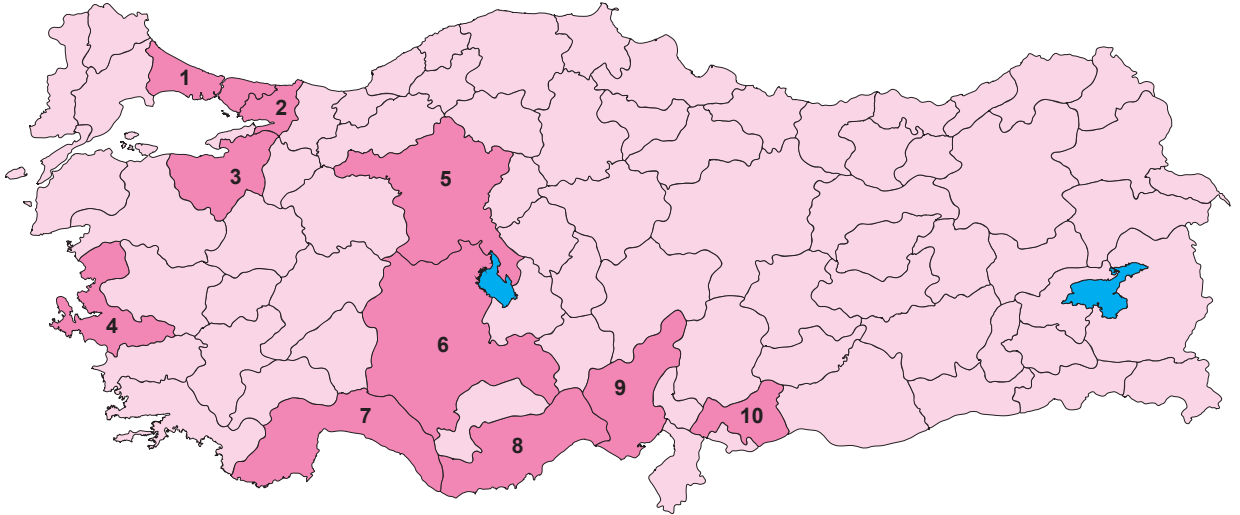
3.

4.

E-ticaret herhangi bir ürünün genel ağ kanalıyla pazarlanması olarak adlandırılmaktadır. E-ticaret, dünyada olduğu gibi Türkiye’de de her geçen gün daha fazla talep görmektedir.

3.

Aşağıdaki haritada verilen e-ticarette pay sahibi illerin isimlerini alttaki numaralı yerlere yazınız. (10 Puan)



1.

2.

3.

4.

5.

6.

7.

8.

9.

10.

4.

Coğrafi işaretler herhangi bir ülke, bölge ya da yöre gibi alanlara has ürünlerin yerelliğini koruyabilmek adına alınan yasal tedbirlerdir. Coğrafi işaretlerin önemli yararları vardır.

Bu yararları 5 örnek yazınız. (10 Puan)

1.

4.

2.

5.

3.

5.

Orta Çağ'da da ticarete konu olan ve her yerde üretilemeyen ipek, tuz, baharat gibi ürünleri kaynağından almak istemesi ticaret yollarını ortaya çıkarmıştır. Anadolu'da kurulan devletler için ayrı bir öneme sahip olan bu ticari güzergâhlara Kral Yolu, İpek Yolu ve Baharat Yolu örnek verilebilir.

5.Eski toplumlar açısından bu ticaret yollarının nitelikleri nelerdir? (6 Puan)

|    |  |
|----|--|
| 1. |  |
| 2. |  |
| 3. |  |

6.

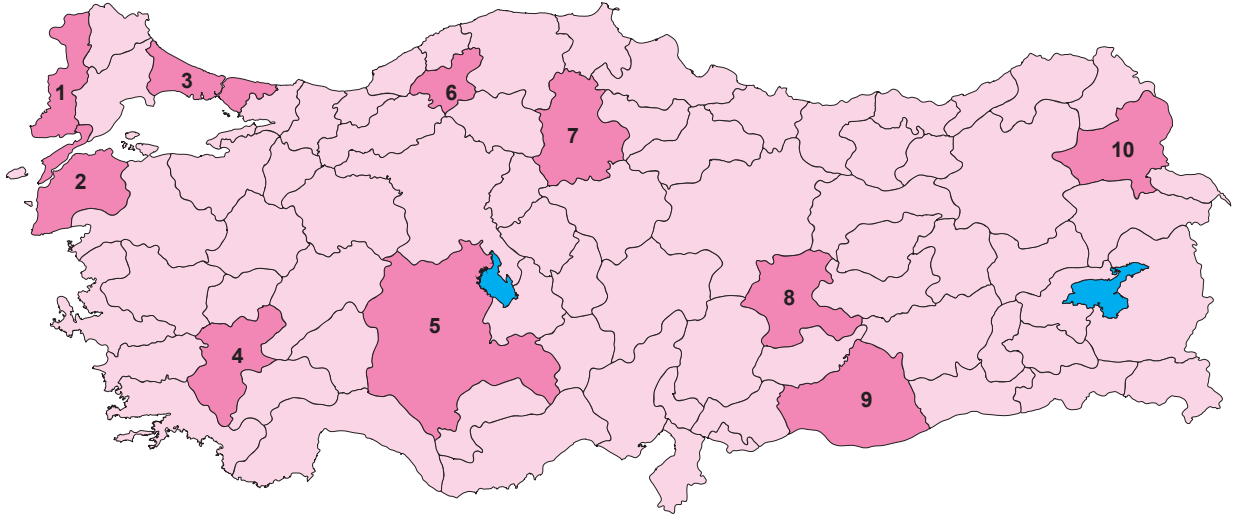
Serbest ticaret bölgeleri, buldukları ülkenin siyasi sınırları içinde yer alan ancak vergi ve gümrük mevzuatı ile gümrük hattı dışında kalan özel ticari merkezlerdir. Bu bölgelerde yürütülen sanayi ve ticaret faaliyetleri, ülke içindeki faaliyetlere göre daha farklı muafiyet ve teşvik imkânlarına sahiptir.

Serbest ticaret bölgelerinin amaçları nelerdir? Maddeler halinde yazınız. (10 Puan)

|    |  |
|----|--|
| 1. |  |
| 2. |  |
| 3. |  |
| 4. |  |
| 5. |  |

7.

Aşağıdaki haritada numaralandırılarak gösterilen illerde yer alan Dünya Miras Listesi'ndeki varlıkların isimlerini alttaki numaraların karşısına yazınız. (10 Puan)



|    |  |     |  |
|----|--|-----|--|
| 1. |  | 6.  |  |
| 2. |  | 7.  |  |
| 3. |  | 8.  |  |
| 4. |  | 9.  |  |
| 5. |  | 10. |  |

8.

Turizmin, kültüre olumlu etkilerinin yanı sıra olumsuz etkileri de bulunmaktadır.

Bu olumsuz etkilere üç örnek yazınız. (6 Puan)

|    |  |
|----|--|
| 1. |  |
| 2. |  |
| 3. |  |

9. Denizaşırı yolculuklar, öngörülen amaçlar doğrultusunda yeni kıtalar ve ticaret yollarının keşfedilmesiyle sonuçlanmıştır. Bu durum, kıtalar ve okyanusların jeopolitik yönden önemli değişikliklere uğramasına neden olmuştur.

Türklerin elindeki ticaret yolları ve Akdeniz su yolunun önemini yitirmesine neden olan olay hangisidir? (4 Puan)

10. Aşağıdaki fotoğraflarda gösterilen yerlerin hangi illerin simgesi hâline geldiğini alttaki boşluklara yazınız. (16 Puan)



Selimiye Camisi

(.....)



Cumalıkızık Köyü

(.....)



Hattuşa

(.....)



İshakpaşa Sarayı

(.....)



St. Pierre Kilisesi

(.....)



Akdamar Adası

(.....)



Balıklıgöl

(.....)



Afrodisias Antik Kenti

(.....)

11. Türkiye, yer şekilleri ve iklim koşulları bakımından kış turizmine elverişlidir. Bu nedenle Türkiye'de birçok yerde kış turizmi gelişmiştir.

Türkiye'de kış turizminin geliştiği yerlere 4 örnek veriniz. (4 Puan)


|    |  |
|----|--|
| 1. |  |
| 2. |  |
| 3. |  |
| 4. |  |

12. Aşağıda verilen önemli gelişmeler ve ticaret yollarının açılmasıyla önemi artan bölgeler ve su kütlelerini karşısına yazınız. (8 Puan)

|   |                            |  |
|---|----------------------------|--|
| 1 | İpek Yolu                  |  |
| 2 | Baharat Yolu               |  |
| 3 | Ümit Burnu'nun keşfi       |  |
| 4 | Süveyş Kanalı'nın açılması |  |

13.

Aşağıdaki bulmacayı çözünüz.



## YATAY

1. Akdeniz ile Kızıldeniz'i birleştiren kanal
7. Bir ürünün veya malın alım satım işlerinin tümü
8. Yabancı ülkelere satın alınan her türlü mal ve hizmet
11. Güney Ortak Pazarı'na üye olan ülkelerden biri
12. Türkiye'nin en fazla ihracat yaptığı ülke
13. Türkiye'deki en büyük ticaret merkezi olan il
16. Bolu'da kayak turizminin geliştiği dağ
19. Todesillas Antlaşması'nı imzalayan ülkelere batı olanı
20. Yılın belli dönemlerinde kurulan büyük pazar alanı

## DİKEY

2. İpek ve Baharat yollarının önem kaybetmesine neden olan su yolu
3. Türkiye'nin en çok ihraç ettiği sanayi türü
4. Dünya'nın etrafını dolaşan kâşif Ferdinand
5. Demir-İpek Yolu'nun Asya ile Avrupa bağlantısını sağlayan bölümü
6. UNESCO tarafından gastronomi alanında koruma altına alınan il
9. Dünya'da turistlerin en fazla ziyaret ettiği ülke
10. Troya Antik Kenti'nin yer aldığı il
14. Edirne'nin simgesi hâline gelen cami
15. Eskişehir'in menşe işareti ile tescillenmiş ürünü
17. Rafting turizmine elverişli akarsularımızdan biri
18. NAFTA'ya üye ülkelerinden biri