

1.

Türkiye'de tarımsal verimi etkileyen önemli unsurlardan biri sulamadır. Türkiye'de yaz mevsiminin kurak, yağışların da genel itibarıyla düzensiz olması tarımda sulamanın önemini artırmıştır.

Türkiye'de sulamanın yaygınlaşması durumunda gerçekleşecek durumlara 5 örnek yazınız. (10puan)

1.

2.

3.

4.

5.

2.

Buğday başta olmak üzere mısır, çeltik (pirinç), arpa, yulaf, darı ve kuş yemi gibi tarım ürünlerine tahıl (hububat) denir. Türkiye'de tarım alanlarının yarısından fazlasında tahıl tarımı yapılmaktadır.

Tahıl tarımının fazla yapılmasının nedenlerini maddeler halinde yazınız.(8 puan)

1.

2.

3.

4.

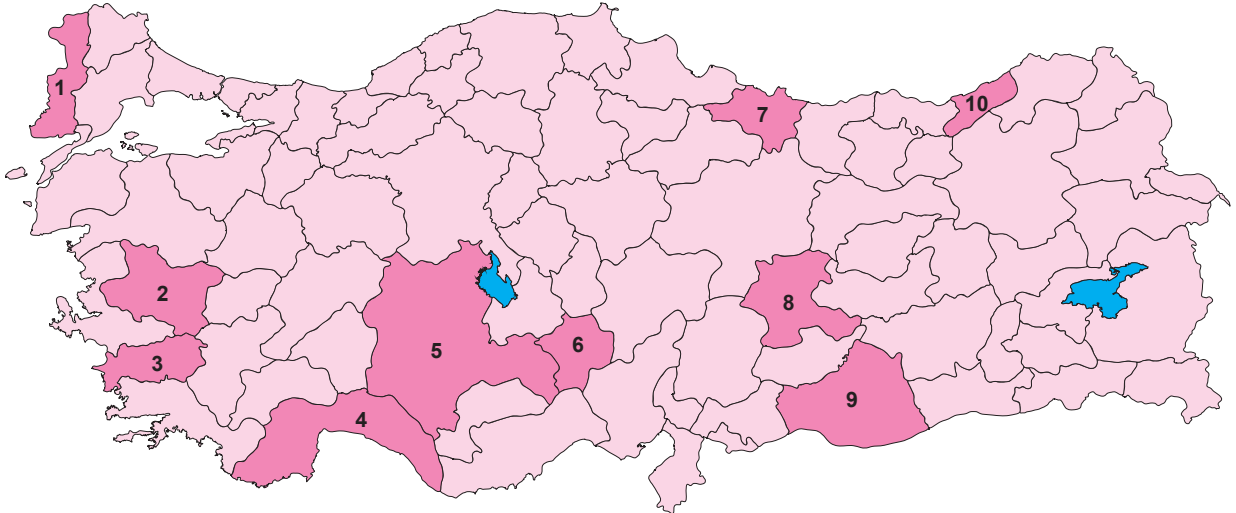
3.

- Yüksek sıcaklık ve nem isteği olan bir üründür.
- Su içinde çimlenir ve ekiminden hasat dönemine kadar su içinde yetişir.
- Türkiye'de genellikle akarsu boylarında alüvyal sahalarda yetiştirilir.

Yetiştirme özellikleri verilen bu tarım ürünü hangisidir? (5 puan)

4.

Aşağıdaki haritada bazı ürünlerin yaygın olarak yetiştirildiği iller numaralandırılarak gösterilmiştir.



Bu illerdeki ürünlerin isimlerini numaraların karşısına yazınız. (10 puan)

1.

3.

5.

7.

9.

2.

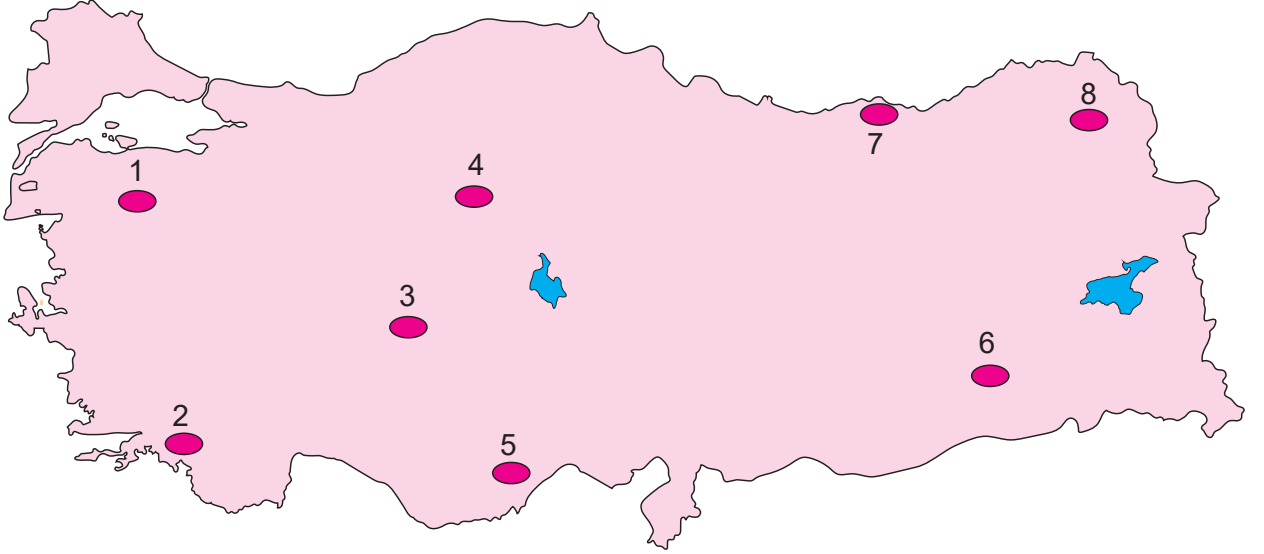
4.

6.

8.

10.

5. Aşağıda harita üzerinde işaretlenen bölgelerde yoğun olarak yapılan hayvancılık türünü belirtiniz. (8 puan)



1.		2.	
3.		4.	
5.		6.	
7.		8.	
9.		10.	

6. Türkiye'nin maden çeşitliliği bakımından zengin olmasının nedenlerini yazınız.(8 puan)

-
-

7. Aşağıdaki tabloda boş bırakılan numaralanmış bölümleri uygun şekilde doldurunuz.(10 puan)

Yenilenemeyen Enerji Kaynakları		Yenilenebilir (Alternatif) Enerji Kaynakları	
1.		1.	
2.		2.	
3.		3.	
4.		4.	
5.		5.	

8. Aşağıda verilen bazı sanayi tesislerinin kuruluşunda ön planda olan faktörü karşısına yazınız. (10 puan)

1. Tekirdağ Ayçiçek yağı fabrikası:
2. İzmit otomotiv endüstrisi:
3. Ereğli demir-çelik fabrikası:
4. Samsun bakır işletmesi:
5. Rize çay fabrikaları:

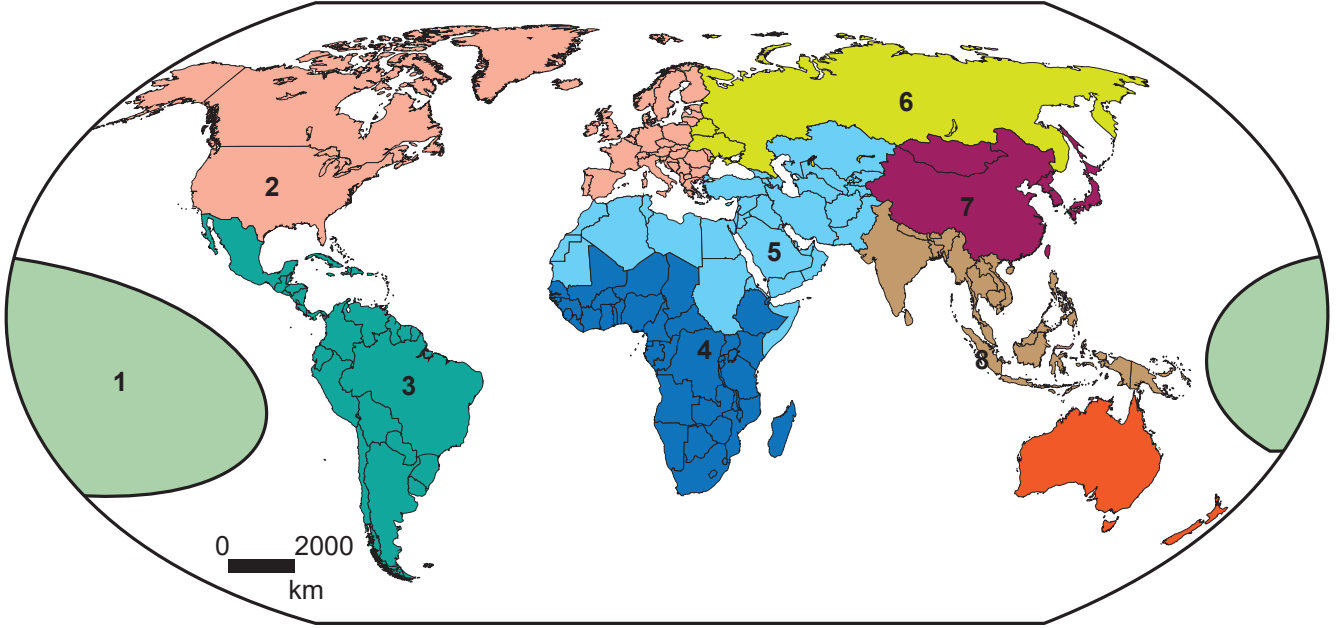
9. Kültürü oluşturan maddi ve manevi unsurlara beşer örnek yazınız. (10 puan)

Kültürü oluşturan maddi unsurlar		Kültürü oluşturan manevi unsurlar	
1.		1.	
2.		2.	
3.		3.	
4.		4.	
5.		5.	

10. • Etrafı çöllerle kaplı olduğu için diğer medeniyetlerden fazla etkilenmemiş; kendine has özellikleri barındırmaktadır.
• Nehrin taşma zamanlarını hesaplamak için güneş takvimini geliştirmişlerdir.

Verilen bu özelliklere sahip olan medeniyet hangisidir? (6 puan)

11. Aşağıdaki haritada numaralandırılarak gösterilen kültür bölgelerinin isimlerini haritanın altındaki numaraların karşısına yazınız. (10 puan)




1.		2.	
3.		4.	
5.		6.	
7.		8.	

12. İslam kültürüne sahip ülkelere 5 tane örnek yazınız. (5 puan)

1.	
2.	
3.	
4.	
5.	

13.

Aşağıdaki bulmacayı çözünüz.

**YATAY**

1. Yüz ölçümü bakımından dünyanın en büyük kültür bölgesi
4. Türkiye'nin yer aldığı kültür bölgesi
6. Türkiye'de ham madde kaynağına yakın kurulan petrol rafinerisi
10. Türkiye'de ilk demir-çelik fabrikasının kurulduğu yer
11. Sulu ve bataklık alanlarda yetiştirilen hayvan türü
14. İpek böcekçiliğinin en fazla yapıldığı il
16. Türkiye'de en fazla elektrik üretilen temiz enerji kaynağı
17. Madenin taş ve topraktan arındırılmış net miktarı
18. Kalitesinin düşmemesi için devlet kontrolünde üretilen ürün
20. Türkiye ekonomisinde en fazla paya sahip sektör

DİKEY

2. En fazla Ankara'da yetiştirilen hayvan türü
3. En fazla Şanlıurfa'da yetiştirilen tarım ürünü
5. Türkiye'nin maden ihracatında ilk sıralarda yer alan maden
7. Toprağın bir yıl ekilip, bir yıl boş bırakıldığı bir yöntem
8. And Dağlarının yükseklerinde kurulan medeniyet
9. Destekleme alımı yapılan tahıl ürünlerinden biri
12. Mezopotamya Medeniyetinin kurulmasında etkili olan akarsu
13. Genellikle akarsu boylarında alüvyal sahalarda yetiştirilen ürün
15. Alüminyumun ham maddesi olan maden
19. Yaz kuraklığı yaşamayan illerden biri.