

1. Yükseltiye bağlı olarak sıcaklığın azalması ve bir noktaya kadar yağışın artması, bitki ve hayvan türlerinin bir dağ yamacı boyunca çeşitlenmesini sağlamıştır. Yamaç boyunca bitki örtüsü kuşaklar oluşturmaktadır.

Karadeniz kıyı kuşağı boyunca yükselti arttıkça bitki örtüsünün oluşturduğu kuşakları yazınız. (10 puan)

2. Aşağıdaki haritada gösterilen şehirleri küresel, bölgesel ve yerel etkiye sahip şehirler şeklinde sınıflandırınız. (12 puan)



Küresel etkiye sahip şehirler

Bölgesel etkiye sahip şehirler

Yerel etkiye sahip şehirler

3. Türkiye'de 2009 yılında Cittaslow ünvanını alan ilk şehirdir. Yaklaşık dört bin yıllık tarihî geçmişi bulunan şehir İzmir'in güneybatısında yer almaktadır. Şehir; ayrıca Aka, Girit, Pers, Bergama krallıkları, İyonya, Selçuklular, Bizans ve Osmanlı dönemlerine ait eserleriyle zengin bir tarihe sahiptir. Ekonomik faaliyetlerin genellikle tarıma dayandığı ilçe, özellikle organik ürünleriyle ön plana çıkmaktadır.

Bu özelliklere sahip olan sakin şehir hangisidir? (5 puan)

4. Türkiye'de kır yerleşmeleri toplu, dağınık ve gevşek yerleşme dokusuna sahiptir. Kırsal yerleşme biriminin toplu, dağınık ya da gevşek dokulu olmasında bazı faktörler etkilidir.

Bu faktörlerden 5 tanesini yazınız. (10 puan)

1.	
2.	
3.	
4.	
5.	

5. Türkiye'de kırsal yerleşmeler yapılan ekonomik faaliyetlere göre geçici ya da sürekli yerleşme özelliği göstermektedir.

Buna göre geçici ve sürekli yerleşmelere 5'er örnek yazınız. (10 puan)

Geçici Yerleşmeler	
1.	
2.	
3.	
4.	
5.	

Sürekli Yerleşmeler	
1.	
2.	
3.	
4.	
5.	

6. Birbirine uzak birden fazla mahallenin birleşmesiyle oluşmuş yerleşmelerdir. İklim ve yeryüzü şekillerinden dolayı özellikle Karadeniz'e özgü bir yerleşme türüdür. Sakarya, Kocaeli, Bolu, Sinop, Samsun ve Ordu gibi illerde yaygın olarak görülmektedir.

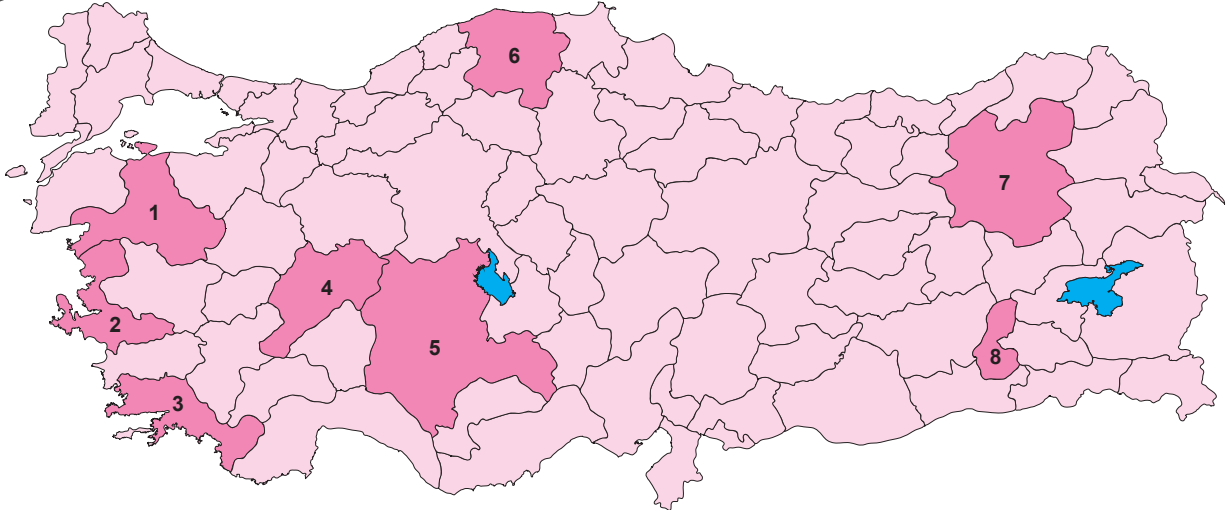
Hakkında bazı bilgiler verilen köy altı yerleşme türünün ismi nedir? (5 puan)

7. Mevcut kaynaklar bakımından zengin olan çok sayıda ülke ekonomik yönden yeterince gelişmemiştir. Bu ülkeler, sermaye ve teknolojinin yetersizliği nedeniyle sahip oldukları kaynakları işlemeden veya yarı işlenmiş şekilde ihraç etmektedir. Bazen bu ülkelerin sahip olduğu zengin kaynaklar ülkenin işgali veya iç savaş gibi birtakım olumsuzluklara neden olmaktadır.

Parçada bahsedilen ülkelere 5 örnek veriniz. (10 puan)

8.

Aşağıdaki haritada bazı doğal kaynaklar yönünden zengin olan iller numaralandırılarak gösterilmiştir.



Bu illerdeki doğal kaynakların isimlerini numaraların karşısına yazınız. (10 puan)

1.		6.	
2.		7.	
3.		8.	
4.		9.	
5.		10.	

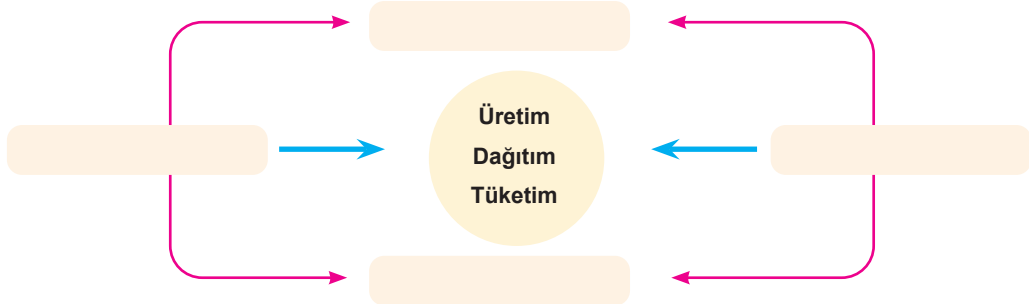
9.

İletişim ve ulaşımın gelişmesiyle birlikte reklam ve pazarlama olanakları artmıştır. Bu duruma bağlı olarak da kahve, kakao, enerji içecekleri, tropikal meyveler gibi her yerde bulunamayan ürünler dünyanın birçok yerine ulaşmış ve bu ürünlerin tüketimi artmıştır.

Bu durum üretim, dağıtım ve tüketim etkileşimi, açısından değerlendirildiğinde hangisine örnek gösterilir? (5 puan)

10.

Aşağıdaki şemada üretim, dağıtım ve tüketimi etkileyen doğal faktörlerin isimlerini boş bırakılan kutucuklara yazınız.



11.

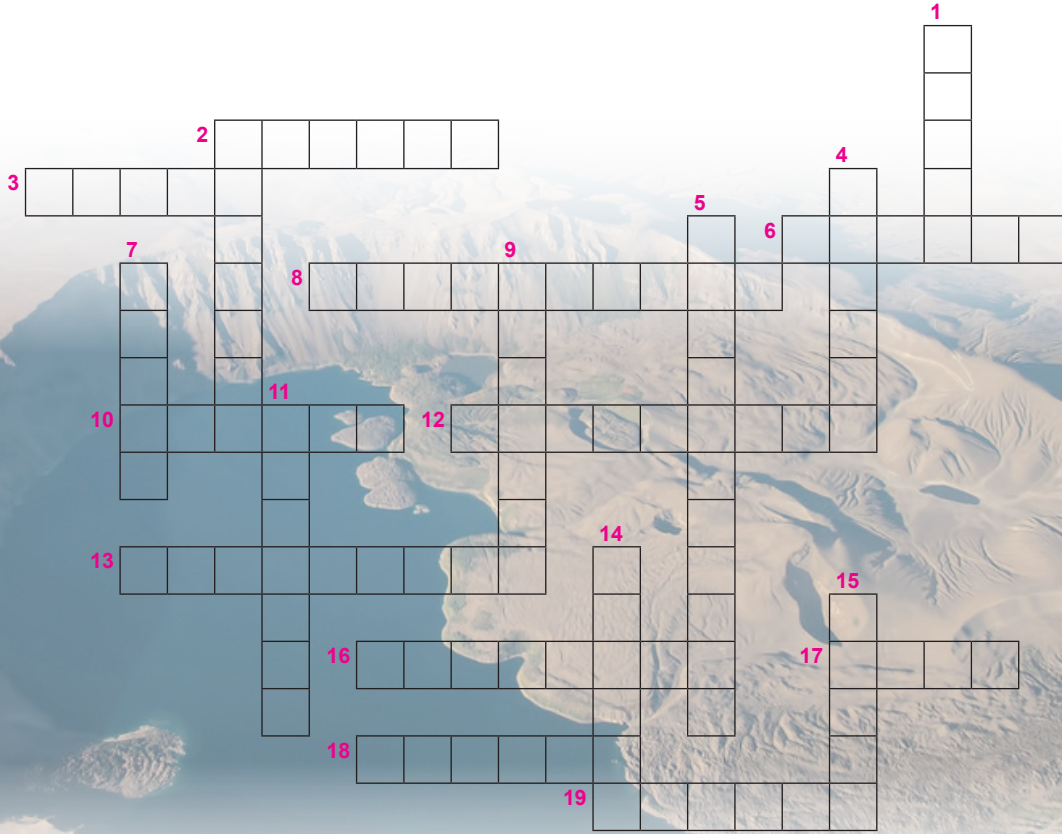
Aşağıdaki şemada üretim, dağıtım ve tüketim etkileşimine örnek gösterilmiştir.



Sizde bu etkileşime benzer bir örnek veriniz. (10 puan)

12.

Aşağıdaki bulmacayı çözünüz.

**YATAY**

2. Üretimi etkileyen beşerî unsurlardan biri
3. Turizm ve moda nedeniyle küresel etkiye sahip şehir
6. Ramsar Sözleşmesi'ne göre koruma altına alınan Kaldıra Gölü
8. Kış turizminin geliştiği dağlardan biri
10. Mal ve hizmetlerin kullanılabilir duruma getirilmesi
12. İlk ve orta çağlarda sıcak su temini amacıyla kullanılan kaynak
13. Zengin doğal kaynaklara sahip az gelişmiş ülkelerden biri
16. Kahvenin ana vatanı olan ülke
17. Küçükbaş hayvanlar için çevresi taş duvar ya da çitlerle çevrili olan barınak
18. Maveraünnehir Bölgesi'nde bulunan önemli Türk-İslam şehirlerinden biri
19. Köy ile şehir arasında geçiş özelliği gösteren yerleşme

DİKEY

1. 1923'te İktisat Kongresinin yapıldığı il
2. Zengin doğal kaynağı olmadığı halde gelişen ülkelerden biri
4. Tükenebilen doğal kaynaklardan biri
5. 2009 yılında Türkiye'nin Cittaslow ünvanını alan ilk şehri
7. Sanayi Devrimi'ni başlatan maden
9. Nüfus artış hızını yükseltmeye çalışan Orta Afrika ülkesi
11. Üretilen mal ve hizmetlerin kullanılması
14. Neolitik Çağ'da tarım sayesinde önem kazanan doğal kaynak
15. Geçici köy altı yerleşmelerinden biri